



第四单元测试卷



数学 (JJ) 三年级 (上)

时间: 60 分钟

满分: 100 分

题 号	一	二	三	四	五	六	总 分
得 分							



轻松练基础

一、填空。(25 分)

- 口算 $60 \div 2$ 时, 把 60 看作()个十, 除以 2 是()个十, 就是()。
- $\square \div \bigcirc = 18 \cdots 4$, \bigcirc 最小应是(), 这时 \square 里是()。
- 56 是 4 的()倍, 129 里面有()个 3。
- 在计算除法时, 除到被除数的哪一位, 就把商写在()位上。
- $483 \div 5$ 的商是()位数, 商的最高位写在()上。
- 在 \bigcirc 里填上 “<” “>” 或 “=”。

$415 \div 5 \bigcirc 504 \div 5$
 $126 \div 7 \bigcirc 397 \div 5$

$420 \div 6 \bigcirc 560 \div 7$
 $515 \div 5 \bigcirc 631 \div 9$
- () 里最大能填几?


$880 > () \times 8$
 $56 > () \times 5$

$() \times 6 < 72$
 $9 \times () < 93$

$3 \times () < 336$
 $() \times 6 < 756$
- $\triangle \bigcirc \square \triangle \bigcirc \square \cdots$ 第 20 个图形是()。
- 最大的一位数除最大的三位数, 商是()。
- 做一件外套用 2 米布, 23 米布最多可以做()件外套。
- $\square 95 \div 8$ 如果商是三位数, \square 里最小可以填(), 如果商是两位数, \square 里最大可以填()。



二、判断。(对的打“√”,错的打“×”)(5分)

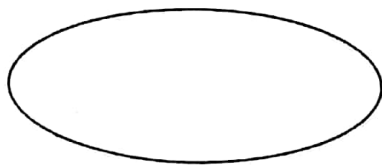
1.  是对称图形。 ()
2. 三位数除以一位数,商一定是两位数。 ()
3. 0 除以任何数都得 0。 ()
4. 在除法算式中,如果被除数的末尾有 0,则商的末尾一定有 0。 ()
5. 小朋友滑旱冰时,做的是旋转运动。 ()

三、选择。(5分)

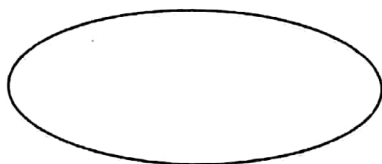
1. 下面各算式中,没有余数的是()。
A. $65 \div 6$ B. $684 \div 6$ C. $173 \div 6$
2. $5\square5 \div 5$,要使商中间有“0”,而且没有余数, \square 里最小能填()。
A. 0 B. 1 C. 3
3. 蛋糕屋制作了 286 块小糕点,每盒装 6 块,全部装完,至少需要 ()个糕点盒。
A. 46 B. 47 C. 48
4. 下面的算式中()的商最接近 50。
A. $242 \div 7$ B. $443 \div 9$ C. $242 \div 4$
5. 甲是乙的 5 倍,如果甲是 360,乙是()。
A. 70 B. 72 C. 66

四、下面各数哪些数除以 2 没有余数,哪些数除以 5 没有余数? 分别填入相应的圈里。(14分)

186 370 275 788 505 526



除以2没有余数



除以5没有余数



五、计算。(20 分)

1. 口算。(8 分)

$96 \div 3 =$

$86 \div 2 =$

$84 \div 4 =$

$72 \div 9 =$

$550 \div 5 =$

$360 \div 4 =$

$780 \div 3 =$

$125 \div 5 =$


2. 列竖式。(12 分)

$95 \div 5 =$

$87 \div 7 =$

$384 \div 4 =$

$816 \div 8 =$



六、解决问题。(31 分)

1. 买 2 件上衣的钱可以买 3 条裙子,每件上衣 42 元,每条裙子多少元?

2. 妈妈买来 4 卷胶卷,每卷可拍照 36 张,一共花 384 元,平均每卷胶卷多少元? 你还能提出什么问题?

3. 食堂每天卖出馒头 350 个,3 天卖出馅饼 210 个,馒头比馅饼每天多卖多少个?



4. 家乐家电销售部要安装 182 台空调。



已经安装了74台

剩下的9天
就可以完成



平均每天安装多少台?



5. 投圈比赛。谁平均每次投的分值高?



小兰

我3次投
了96分。


我6次投
了132分。



小明

6. (1) 可以安装多少台电扇?

有424片扇叶，每
台电扇安装4片。



(2) 如果王叔叔每安装一台电扇用 8 分钟，那么安装这些电扇一共用多长时间?

